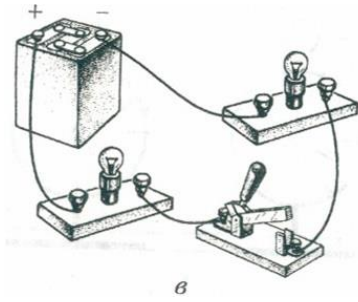
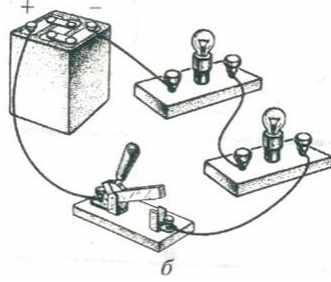
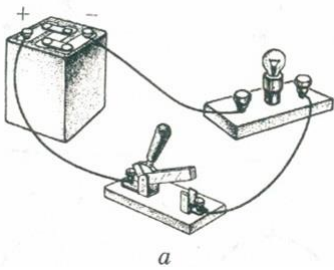
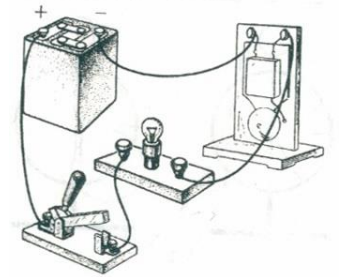


Задания по теме «Электрические схемы»

1. Начертите схемы установок, изображенных на рис. а, б, в.



2. Укажите отдельные элементы цепи. Изобразите схему этой цепи. Укажите направление тока в электрической цепи, когда ключ замкнут. Что произойдет, если лампочка перегорит?



3. Начертите схему электрической цепи, содержащей источник тока, две электрические лампы, два ключа и один электрический звонок, так, чтобы звонок звонил, когда какая-нибудь лампа горит.